

**Paper I Part - A**  
**MALAYALAM**  
**Question Number 1 to 15**

- 1) താഴെകൊടുത്തിരിക്കുന്നവയിൽ ശരിയായി എഴുതിയ പദം ഏത്?  
എ) ഉൽഘാടനം                      ബി) ഉദ്ഘാടനം  
സി) ഉഥ്ഘാടനം                      ഡി) ഉയ്ഘാടനം
- 2) താഴെപറയുന്നവയിൽ ബഷീറിന്റെ കഥാപാത്ര ജോഡി.  
എ) ചന്ദ്രിക - രമണൻ  
ബി) പരീക്കുട്ടി - കുറുത്തമ്മ  
സി) സാറമ്മ - കേശവൻ നായർ  
ഡി) ദാസൻ - ബിന്ദു
- 3) ശ്രേഷ്ഠ ഭാഷാപദവി ആദ്യം ലഭിച്ചത്.  
എ) തമിഴ്                                  ബി) സംസ്കൃതം  
സി) കന്നട                                  ഡി) തെലുങ്ക്
- 4) അനവസരത്തിൽ ആഡംബരം കാണിക്കുന്നു എന്ന അർത്ഥത്തിൽ പ്രയോഗിക്കുന്ന ശൈലി  
എ) തലമറന്ന് എണ്ണ തേക്കുക  
ബി) അർദ്ധരാത്രിക്ക് കൂട പിടിക്കുക  
സി) ഉർവശി ചമയുക  
ഡി) നക്ഷത്രമെണ്ണുക
- 5) 'കാച്ചിക്കുറുക്കിയ കവിതകൾ' എന്ന് അറിയപ്പെടുന്നത് ആരുടെ കവിതകളാണ്.  
എ) ഒ.എൻ.വി.കുറുപ്പ്                  ബി) സുഗതകുമാരി  
സി) വള്ളത്തോൾ                      ഡി) വൈലോപ്പിള്ളി ശ്രീധരമേനോൻ
- 6) 'അ' എന്ന അക്ഷരം വേറിട്ട അർത്ഥത്തിൽ ചേർത്തുപയോഗിച്ച പദം ഏത്?  
എ) അധർമം                              ബി) അനീതി  
സി) അശാന്തി                              ഡി) അടവി
- 7) രാജ്യത്തിന്റെ കടബാധ്യത പ്രതിവർഷം കുടിക്കുടി വരികയാണ്. പ്രതിവർഷം എന്ന പദം വിഗ്രഹിച്ചു പറഞ്ഞാൽ  
എ) പ്രതിയുടെ വർഷം                  ബി) വർഷംതോറും  
സി) വർഷത്തിന് ശേഷം                  ഡി) വർഷത്തിന് മുൻ
- 8) 'മറ്റുള്ള ഭാഷകൾ കേവലം ധാത്രിമാർ മർത്തുന്നു പെറ്റമ്മ തൻ ഭാഷതാൻ' ആരുടേതാണ് ഈ വരികൾ  
എ) ആശാൻ                              ബി) ഉള്ളൂർ  
സി) വള്ളത്തോൾ                      ഡി) എഴുത്തച്ഛൻ
- 9) ഭീമനെ കേന്ദ്ര കഥാപാത്രമാക്കി എം.ടി.വാസുദേവൻ നായർ എഴുതിയ നോവൽ ഏത്?  
എ) അസൂരവിത്ത്                      ബി) മഞ്ഞ്  
സി) രണ്ടാംമുഴം                              ഡി) കാലം
- 10) വാളെടുത്തവൻ വാളാൽ നശിക്കും - ഈ പഴഞ്ചൊല്ലിന്റെ ആശയത്തോട് ഏറ്റവും അടുത്തു നിൽക്കുന്ന ചൊല്ല് താഴെപറയുന്നവയിൽ ഏത്?  
എ) വാളെടുത്തവനെല്ലാം വെളിച്ചപ്പാട്  
ബി) വെട്ടൊന്ന് മുറി രണ്ട്  
സി) വേലി തന്നെ വിളവ് തിന്നുക  
ഡി) വിതച്ചതേ കൊയ്യൂ
- 11) താഴെപറയുന്നവയിൽ ചിഹ്നമില്ലാത്ത സ്വരാക്ഷരം.  
എ) ആ                                      ബി) എ  
സി) അ                                      ഡി) ഇ
- 12) അറബി മലയാളം കൂടുതലായി കാണപ്പെടുന്ന സാഹിത്യരൂപം താഴെപറയുന്നവയിൽ ഏത്.  
എ) നോവൽ                                  ബി) ചെറുകഥ  
സി) മാപ്പിളപ്പാട്ട്                              ഡി) നാടകം
- 13) കണ്ണിൽ മണ്ണിടുക എന്ന ശൈലി അർത്ഥമാക്കുന്നത്.  
എ) കണ്ണിൽ മണ്ണെടുത്തിടുക  
ബി) വഞ്ചിക്കുക  
സി) മണ്ണ് പരിശോധിക്കുക  
ഡി) സ്ഥലം വാങ്ങുക
- 14) കാസർകോട് ജില്ലയിലും കർണ്ണാടകയുടെ പല ഭാഗങ്ങളിലും പ്രചാരമുള്ളതും കഥകളിയോട് സാമ്യം പുലർത്തുന്നതുമായ ഒരു കലാരൂപം  
എ) കാക്കാരിശ്ശി നാടകം  
ബി) പുരക്കളി  
സി) ചവിട്ടുനാടകം  
ഡി) യക്ഷഗാനം
- 15) നന്തനാർ എന്ന തൂലികാ നാമത്തിൽ അറിയപ്പെടുന്ന സാഹിത്യകാരൻ ആര്?  
എ) പി.സി.ഗോപാലൻ  
ബി) ജോർജ്ജ് വർഗീസ്  
സി) വി.മാധവൻ നായർ  
ഡി) പി.സി.കുട്ടികൃഷ്ണൻ

Paper I Part - B

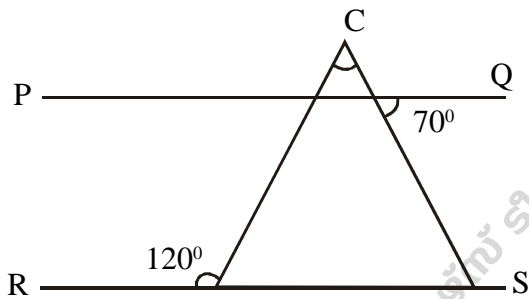
മലയാളം

Question Number 16 to 30

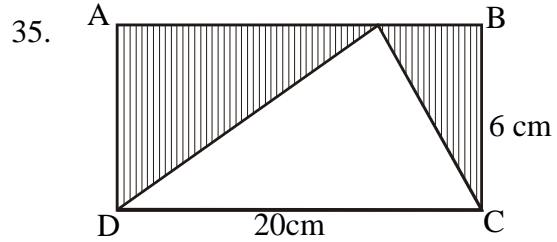
- 16) “മലരണിക്കാടുകൾ തിങ്ങിവിങ്ങി  
മരതക കാന്തിയിൽ മുങ്ങി മുങ്ങി  
കരളും മിഴിയും കവർന്നു മിന്നി  
കരയറ്റൊരാലസൽ ഗ്രാമഭംഗി”  
ഈ വരികൾ ഉൾപ്പെടുന്ന കൃതി ഏത്?  
എ) ഇടശ്ശേരിയുടെ പുതപ്പാട്ട്  
ബി) കുമാരനാശാന്റെ ലീല  
സി) ചങ്ങമ്പുഴയുടെ രമണൻ  
ഡി) വൈലോപ്പിള്ളിയുടെ സഹ്യന്റെ മകൻ
- 17) അങ്ങേയറ്റം, അവസാനം എന്നീ ആശയങ്ങൾ നൽകുന്ന മലയാള ശൈലി  
എ) നെല്ലിപ്പലക കാണുക  
ബി) അടിയറ വയ്ക്കുക  
സി) അറ്റകൈ  
ഡി) നെറ്റിവിയർക്കുക
- 18) 2015 ലെ സാഹിത്യത്തിനുള്ള നൊബേൽ പുരസ്കാരം ലഭിച്ചത്.  
എ) സ്വെറ്റ്ലാന അലക്സീവിച്ച്  
ബി) സ്വെറ്റ്ലാന അലക്സാണ്ടർ  
സി) ടോമോസ് അലക്സിയ  
ഡി) പോൾ മോഡിച്ചി
- 19) കൂട്ടത്തിൽ പെടാത്തത് ഏത്.  
എ) കഥകളി ബി) കൃഷ്ണനാട്ടം  
സി) കൂടിയാട്ടം ഡി) ആട്ടക്കഥ
- 20) ‘യൂറോപ്പിന്റെ ഇതിഹാസം’ എന്നു വിശേഷിപ്പിക്കപ്പെടുന്ന കൃതി ഏത്.  
എ) ജീൻ ക്രിസ്റ്റഫ് ബി) വാർ ആൻഡ് പീസ്  
സി) ലാമിറാബിലെ ഡി) അന്നാകരിനീന
- 21) 2015 ലെ വള്ളത്തോൾ അവാർഡ് ലഭിച്ചത്  
എ) ആനന്ദ് ബി) എം.മുകുന്ദൻ  
സി) കെ.ആർ.മീര ഡി) സുഗതകുമാരി
- 22) കുമാരനാശാന്റെ ചില കൃതികൾ താഴെചേർക്കുന്നു. പ്രസിദ്ധീകരണ വർഷത്തിനനുസരിച്ച് തുടക്കത്തിൽ നിന്ന് ഒടുക്കത്തിലേക്ക് എന്ന രീതിയിൽ ശരിയായ ക്രമീകരണം ഏത്?  
എ) വീണപൂവ്, നളിനി, ലീല, കരുണ  
ബി) വീണപൂവ്, നളിനി, കരുണ, ലീല  
സി) വീണപൂവ്, ലീല, കരുണ, നളിനി  
ഡി) വീണപൂവ്, കരുണ, ലീല, നളിനി
- 23) ‘മനുഷ്യൻ ഒരു ആമുഖം’ എന്ന നോവലിന് 2014 ലെ കേന്ദ്രസാഹിത്യ അക്കാദമിക പുരസ്കാരം ലഭിച്ചു. രചയിതാവ് ആര്?  
എ) കെ.ആർ.മീര  
ബി) സുസ്മേഷ് ചന്ദ്രോത്ത്  
സി) സുഭാഷ് ചന്ദ്രൻ  
ഡി) സന്തോഷ് എച്ചിക്കാനം
- 24) ചുവടെ ചേർത്തവയിൽ അക്ഷരമാലാക്രമം പാലിച്ച് എഴുതിയ കൂട്ടം ഏത്.  
എ) തബല/തൃഷ്ണ/തൈമാവ്/തംബുരു  
ബി) തൃഷ്ണ/തബല/തൈമാവ്/തംബുരു  
സി) തൈമാവ്/തംബുരു/തൃഷ്ണ/തബല  
ഡി) തംബുരു/തബല/തൃഷ്ണ/തൈമാവ്
- 25) മലയാളത്തിലെ ജ്ഞാനപീഠം പുരസ്കാരം നേടിയവർ - ആദ്യത്തേതിൽ നിന്നും അവസാനത്തേത് എന്ന ക്രമത്തിലെഴുതിയത് ഏത്.  
എ) ജി.ശങ്കരക്കുറുപ്പ്, എസ്.കെ.പൊറ്റക്കാട്, തകഴി, എം.ടി, ഒ.എൻ.വി.  
ബി) ജി.ശങ്കരക്കുറുപ്പ്, എസ്.കെ.പൊറ്റക്കാട്, തകഴി, ഒ.എൻ.വി., എം.ടി  
സി) ജി.ശങ്കരക്കുറുപ്പ്, തകഴി, ഒ.എൻ.വി., എസ്.കെ.പൊറ്റക്കാട്, എം.ടി.  
ഡി) ജി.ശങ്കരക്കുറുപ്പ്, തകഴി, എസ്.കെ.പൊറ്റക്കാട്, ഒ.എൻ.വി, എം.ടി.
- 26) കണ്ണീരും കിനാവും ആരുടെ ആത്മകഥ.  
എ) വി.ടി.ഭട്ടതിരിപ്പാട് ബി) ജി.ശങ്കരക്കുറുപ്പ്  
സി) എൻ.എൻ.പിള്ള ഡി) ചെറുകാട്
- 27) താഴെപറയുന്നവയിൽ തെറ്റായ കൂട്ടം ഏത്.  
എ) കോരൻ - ചിരുത-ചാത്തൻ - ബഷീർ  
ബി) ചെമ്പൻകുത്ത് - കറുത്തമ്മ - പരീക്കുട്ടി - തകഴി  
സി) ഇന്ദുലേഖ - മാധവൻ - സുര്യനമ്പൂതിരിപ്പാട്- ഒ. ചന്ദ്രമേനോൻ  
ഡി) രവി - പാത്തുമ്മ - കോടച്ചി - ഒ.വി. വിജയൻ
- 28) കേരള ഫോക്ലോർ അക്കാദമി സ്ഥിതിചെയ്യുന്നത്.  
എ) കണ്ണൂർ ബി) തിരുവനന്തപുരം  
സി) തൃശ്ശൂർ ഡി) വയനാട്
- 29) കർഷകത്തൊഴിലാളികളുടെ ജീവിതം ആഖ്യാനം ചെയ്യുന്ന ആദ്യമലയാള നോവൽ - കർത്താവ്.  
എ) രണ്ടിടങ്ങഴി-തകഴി  
ബി) കന്നിക്കൊയ്ത്ത് - വൈലോപ്പിള്ളി  
സി) ഓടിയിൽ നിന്ന് - പി.കേശവദേവ്  
ഡി) നെല്ല് - പി.വത്സല
- 30) പൂവിന്റെ ശൈശവം, ബാല്യം, കൗമാരം, യൗവനം എന്നിങ്ങനെ എല്ലാ ജീവിത അവസ്ഥകളേയും തന്റെ ജീവിത ദർശനത്തേയും തന്റെ സൃഷ്ടിയിലൂടെ അവതരിപ്പിച്ച കവി.  
എ) വള്ളത്തോൾ ബി) ഒ.എൻ.വി  
സി) കുമാരനാശാൻ ഡി) സുഗതകുമാരി

**Paper I Part - C**  
**MATHS**  
**Question Number 31 to 50**

31. A train travels with a speed of 20m/sec. Find the time taken to cover a bridge of 120m if the length of the train is 80m.
- A. 4sec  
B. 20sec  
C. 10sec  
D. 6sec
32. Find the number which comes in the one's position of  $2^{100}$
- A. 2  
B. 6  
C. 8  
D. 4
33.  $PQ \parallel RS$ . The measure of  $\angle C = ?$



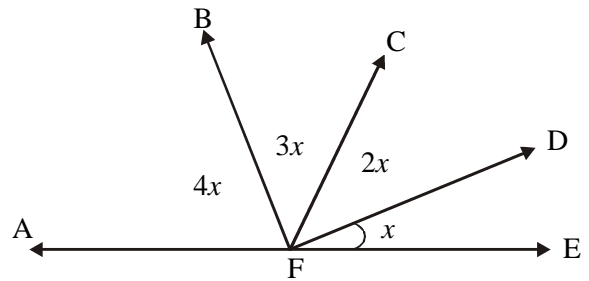
- A.  $130^\circ$   
B.  $30^\circ$   
C.  $70^\circ$   
D.  $50^\circ$
34. Shopkeeper raises the price of a book which cost Rs.100 by 10%. Then he offers 10% discount to it. Find the new value ?
- A.101  
B. 100  
C. 110  
D. 99



- Find the area of the shaded portion of rectangle ABCD
- A.  $120\text{cm}^2$   
B.  $60\text{cm}^2$   
C.  $30\text{cm}^2$   
D.  $20\text{cm}^2$
36. A man makes the Indian National flag with 16.5cm length. What should be its breadth ?
- A. 11 cm  
B. 10cm  
C. 16.5cm  
D. 10.5cm
37. A bank offers  $3\frac{1}{2}$  paise for 100 rupees for one day as interest. Calculate the rate of interest?
- A.  $3\frac{1}{2}\%$   
B. 10.35%  
C. 12%  
D. 12.775%
38. Among the following which is an odd number ?
- A.  $2^{n-1}$   
B.  $2^{7n}$ ,  
C.  $2^{n+1}$   
D.  $2^{n+1}$
39. Find the angle formed by the hour needle and minute needle when the time is 10.10
- A.  $60^\circ$   
B.  $75^\circ$   
C.  $120^\circ$   
D.  $115^\circ$

40. Which is not a perfect square ?
- 71288
  - 64516
  - 39601
  - 100489
41. The areas of two rectangles are  $40\text{cm}^2$  each. The length of first rectangle is 10 cm and that of second rectangle is 2 times the first one. Find the breadth of second rectangle.
- 2cm
  - 20 cm
  - 40 cm
  - 15 cm
42. What happens to the area of a square of its side doubles.
- 2 times
  - 4 times
  - Same
  - 8 times
43. Calculate the distance covered by a cyclist in 30 seconds if he travels with a speed of  $18\text{km/h}$ .
- 100m
  - 18 km
  - 150m
  - 2 km
44. Find the value of  $\frac{2^8 \times 2^5 \times 2^2}{2^4 \times 2^3 \times 2^9}$
- 2
  - 0.5
  - $2^{18}$
  - $2^2$
45. Find the sum of all odd number from 1 to 100
- 2500
  - 100
  - 5500
  - 2600

46



Find  $\angle AFC$

- $70^\circ$
  - $126^\circ$
  - $60^\circ$
  - $10^\circ$
47. The half of the sum of two consecutive prime numbers is 30. Find the first prime number of that pair.
- 29
  - 30
  - 31
  - 60
48. The ratio of rice and urad dal for idli is 7:5 if the rice is 10.5 cup how much urad dal should be taken
- 5 cup
  - 7.5 cup,
  - 7 cup
  - 12 cup
49. The area of a square is  $100\text{cm}^2$ . A square piece of area  $1\text{cm}^2$  is cut from one of its corners. Find the area of the maximum sized square which could be made from it.
- $99\text{cm}^2$ ,
  - $90\text{cm}^2$ ,
  - $98\text{cm}^2$
  - $81\text{cm}^2$
50. A man travels 5km to East from his house. Then he turns right and travels 6km to south. Then he turns left and travels to East by 3km. Calculate the distance between the current position and his house
- 14 km
  - 10 km
  - 9 km
  - 8 km

**Paper II Part - A**  
**ENGLISH**  
**Question Number 1 to 15**

---

**1. Question 1 to 6. Read the following article and choose the right answer.**

Everything is possible with confidence. What is confidence really? It is another name for self belief and complete trust in your own self. You are unique and special with your own set of skills and gifts. You have the right to have your own set of opinions and beliefs about things. Most people lose confidence due to past failures. They let the past ruin their present.

Preparation and practice will give you confidence. Be positive and approach life with a smile rather than a frown. Celebrate every little self improvement and every small personal victory. Take every failure as an opportunity to learn. Overthinking and over analysis in life take away too much of time and postpone important decisions. Go out and meet new people. The best part of interacting with others is that you get a scope to broaden your horizons which is also essential for self improvement. To keep up positive energy, you require regular physical exercise. Taking inspiration from successful people is one of the effective self confidence exercises.

- 1) Confidence means
  - a) Skills and talents
  - b) Self belief and complete trust in self
  - c) Special talents
  - d) None of the above
- 2) How should we change a failure?
  - a) Leave as a past event
  - b) Beware of further failures
  - c) Opportunity to learn
  - d) Self improvement
- 3) What is essential for gaining positive energy?
  - a) Inspiration
  - b) Regular Physical exercise
  - c) Overthinking
  - d) Over analysis
- 4) This is against to become positive
  - a) frown on face
  - b) Smile on face
  - c) Inspiration
  - d) failure
- 5) Which word has the meaning "destroy"
  - a) unique
  - b) frown
  - c) failure
  - d) ruin
- 6) We can take important decisions if we avoid .....
  - a) failures
  - b) trust
  - c) over analysis
  - d) Self belief
- 7) I have been waiting you ..... a long time
  - a) for
  - b) since
  - c) from
  - d) at
- 8) It is ..... your help I could achieve this
  - a) of
  - b) with
  - c) for
  - d) from
- 9) Who ..... you can do this?
  - a) between
  - b) by
  - c) from
  - d) among
- 10) Which term does not describe a noun?
  - a) beautiful
  - b) slowly
  - c) fine
  - d) bad
- 11) Which proverb can give an idea that "just by appearance you cannot judge a person's character"?
  - a) Early bird catches the worm
  - b) Honesty is the best policy
  - c) An idle man's mind is a devil's workshop
  - d) All that glitters is not gold.
- 12) You should always be optimistic. Being ..... you cannot achieve anything.
  - a) dishonest
  - b) pessimistic
  - c) rude
  - d) diffident
- 13) The children have already ..... the notes
  - a) written
  - b) wrote
  - c) writing
  - d) write
- 14) I cannot walk. I cannot run. These two sentences can be joined by using which of the following?
  - a) Either .....or
  - b) Neither.....nor
  - c) if..... not
  - d) Not only ..... but also
- 15) I am ----- tired ----- do any work
  - a) too , to
  - b) So, to
  - c) Very, of
  - d) too, for

**Paper II**  
**Part - B**  
**BASIC SCIENCE**  
**Question Number 16 to 35**

---

- 16) The founder of the popular idea “Zero budget natural farming”
- a) M.S.Swaminathan  
b) Masanobu Fukuvoka  
c) Subhash Palekar  
d) Har Govind Khorana
- 17) ‘Arka Abhay’ is a hybrid variety of which crop?
- a) Greenchilly  
b) Lady’s Finger  
c) Bittergourd  
d) Pumpkin
- 18) Layering which can be experimented on gooseberry, Jack fruit tree etc..... is
- a) Mount layering  
b) air layering  
c) Trunch layering  
d) Simple layering
- 19) Refractive index of water
- a) 1.50    b) 1.33    c) 1.31    d) 1.00
- 20) The alloy present in “Aranmula Kannadi”
- a) Copper, led  
b) Copper, Silver  
c) Tin, lead  
d) Copper, tin
- 21) If we show a burning match stick to the gas produced by the reaction between zinc and hydrochloric acid.
- a) Fire is extinguished  
b) Nothing happens  
c) gas burns with a small sound  
d) Gas spreads out
- 22) The acid present in tomato is
- a) Acetic acid    b) Citric acid    c) Formic acid    d) Oxalic acid
- 23) Hydrangia flowers are seen in different colours due to
- a) Variation in P<sup>H</sup> of soil  
b) Different kinds of seed  
c) Variation in light  
d) Difference in water, fertilizer used
- 24) Eucalyptus, Mahogany etc.... shed their skin for
- a) Growing new plants  
b) Removing the waste  
c) Seed collection  
d) taking the cell sap
- 25) Salivary gland which does not get opened to the mouth of human beings.
- a) Parotid    b) Pituitary  
c) Sub tingular    d) Sub maxillary
- 26) ECLB is used
- a) as an instrument to cut off electric flow  
b) To make the circuit complete  
c) instead of battery  
d) to economize the current consumption
- 27) Chemical used to clean the wounds
- a) Sulphuric acid  
b) Hydrogen peroxide  
c) Carbon dioxide  
d) Ammonium Peroxide
- 28) The walls of sub marines are thicker than ordinary ship due to
- a) Pressure increases as depth increases  
b) Pressure decreases as depth increases  
c) Air pressure equals liquid pressure  
d) Overcome atmospheric pressure

- 29) Which are not blood cells  
a) Magnocytes      b) Lymphocytes  
c) Eosinophils      d) Nutrophils
- 30) The major protein in blood  
a) Eosinophil      b) Albumin  
c) Cerum      d) Haemoglobin
- 31) Molecular speed and kinetic energy are related as  
a) Inversely Proportional  
b) Multiple of each other  
c) half proportional  
d) Directly proportional
- 32) Heat is transferred from sun to earth by  
a) Conduction      b) Convection  
c) Radiation      d) Dynamics
- 33) When pickled, mango shrinks due to  
a) Concentration      b) P<sup>H</sup> value  
c) Osmosis      d) Conduction
- 34) Metanil Yellow is an adulterant added to which food item.  
a) Chilly Powder      b) Tea dust  
c) Ghee      d) Turmeric Powder
- 35) Scientist who discovered medicine for Anthrax seen in cattle.  
a) Louis Pasteur  
b) Jagadish Chandra Bose  
c) Issac Newton  
d) Edward Jenner

Paper II Part - C

സാമൂഹ്യശാസ്ത്രം

Question Number 36 to 55

36. ഇൻഡ്യൻ ഭരണഘടന നിലനിൽവന്ന ദിവസം ഏത് ?  
 A. ജനുവരി 26, 1950  
 B. ഡിസംബർ 25 1945  
 C. നവംബർ 26, 1949  
 D. ജൂലൈ 5, 1947
37. എഴുതപ്പെട്ട ഭരണഘടനയുള്ള രാജ്യം ഇവയിൽ ഏതാണ് ?  
 A. ബ്രിട്ടൺ  
 B. ഇസ്രായീൽ  
 C. ന്യൂസിലാന്റ്  
 D. യു.എസ്.എ
38. സ്വരാജ് ട്രോഫി ലഭിക്കുന്ന മേഖലയേത് ?  
 A. വ്യവസായമേഖല  
 B. തദ്ദേശ സ്വയംഭരണ സ്ഥാപനങ്ങൾ  
 C. കൃഷിമേഖല  
 D. മീൻപിടുത്തം
39. ആദ്യമായി ഭൂപടം നിർമ്മിച്ച ഗ്രിക്കിലെ തത്വശാസ്ത്രജ്ഞൻ ആരാണ് ?  
 A. അനാക്സിമാൻഡർ  
 B. മഗല്ലൻ  
 C. കൊളംബസ്  
 D. അഭിലാഷ്ടോമി
40. വടക്കും തെക്കും തമ്മിൽ യോജിപ്പിച്ചുവരയ്ക്കുന്ന സാങ്കല്പിക വൃത്തരേഖകളാണ്  
 A. ഭൂമധ്യരേഖ  
 B. അക്ഷാംശരേഖകൾ  
 C. രേഖാംശരേഖകൾ  
 D. ധ്രുവങ്ങൾ
41. ആൽപ്സ് പർവ്വതം സ്ഥിതിചെയ്യുന്ന ഭൂഖണ്ഡം ഇവയിൽ ഏതാണ് ?  
 A. യൂറോപ്പ്  
 B. ഏഷ്യ  
 C. ആഫ്രിക്ക  
 D. ആസ്ട്രേലിയ
42. കാറ്റിന്റെ വേഗത അളക്കുന്ന ഉപകരണം ഏത് ?  
 A. അനിമോമീറ്റർ  
 B. തെർമോ മീറ്റർ  
 C. ഹൈഗ്രോമീറ്റർ  
 D. വിൻഡ് വെയിൻ
43. ഫ്രാൻസിലെ ദേശീയ പുഷ്പം ഇവയിൽ ഏതാണ് ?  
 A. താമര  
 B. റോസ്  
 C. ഗോൾഡൻ റോസ്  
 D. ലില്ലി
44. ലോകത്തിലെ ഏറ്റവും വലിയ പ്രതിമയേത് ?  
 A. സ്റ്റാച്ചു ഓഫ് ലിബേർട്ടി  
 B. അവസാന അത്താഴം  
 C. സ്റ്റാച്ചു ഓഫ് കോയിൻ  
 D. സ്റ്റാച്ചു ഓഫ് പെട്രാർക്ക്
45. ഏതാണ് കറുത്തസ്വർണ്ണമെന്ന് അറിയപ്പെടുന്നത് ?  
 A. ഡീസൽ  
 B. കുരുമുളക്  
 C. പെട്രോളിയം  
 D. സിൽവർ
46. ഒരു കബഡി ടീമിലുള്ള അംഗങ്ങളുടെ എണ്ണം  
 A. 7  
 B. 4  
 C. 11  
 D. 8
47. 'ഫാദർ ഓഫ് ഹ്യൂമാനിസം' എന്നറിയപ്പെടുന്നത് ആരെ?  
 A. പെട്രാർക്ക്  
 B. മ്യൂസ്സോളിനി  
 C. ഗാന്ധിജി  
 D. ഗലീലിയോ
48. ചവിട്ടുനാടക കലാരൂപം സംഭാവന നൽകിയവർ ആര് ?  
 A. ഡച്ച്കാർ  
 B. പോർട്ടുഗീസ്കാർ  
 C. ഇംഗ്ലീഷ്കാർ  
 D. ഫ്രഞ്ച്കാർ



49. തുർക്കികൾ കോൺസ്റ്റാന്റിനോപ്പിൾ പിടിച്ചടക്കിയ വർഷം ഏത് ?
- A. 1945  
B. 1453  
C. 1435  
D. 1940
50. ഡച്ച് ശക്തി ക്ഷയിച്ച യുദ്ധമേത് ?
- A. പാനിപ്പത്ത്  
B. ഒന്നാം സ്വാതന്ത്ര്യസമരം  
C. കുളച്ചൽ യുദ്ധം  
D. കർണ്ണാട്ടിക് യുദ്ധം
51. ദത്തപഹാരനയം ഏത് പ്രഭുവാണു് നിർത്തലാക്കിയത് ?
- A. ഡൽഹൗസിപ്രഭു  
B. കഴ്സൺപ്രഭു  
C. വെല്ലസ്ലി പ്രഭു  
D. രാജാദാസ് പ്രഭു
52. സാമൂതിരി രാജാവിന്റെ നാവികത്തലവൻ ആരായിരുന്നു ?
- A. കുഞ്ഞാലികൾ  
B. പോർട്ടുഗീസുകാർ  
C. ഡച്ചുകാർ  
D. ഇംഗ്ലീഷുകാർ
53. നഗോഡകൾ ഏത് സംസ്ഥാനവുമായി ബന്ധപ്പെട്ടിരിക്കുന്നു ?
- A. പഞ്ചാബ്  
B. മഹാരാഷ്ട്ര  
C. ബംഗാൾ  
D. തമിഴ്നാട്
54. സി.എസ്.ഒ (C,S,O) മുഴുവൻ പേര് എന്ത് ?
- A. സെൻട്രൽ സൊസൈറ്റി ഓഫ് ഒർഗൈനൈസേഷൻ  
B. സെൻട്രൽ സ്റ്റാറ്റിസ്റ്റിക്കൽ ഓഫീസ്  
C. സെൻസസ് സൊസൈറ്റി ഓഫ് ഓൾഡ് ഏജ്  
D. സെൻട്രൽ സ്കൂൾ ഓഫ് ഓഫീസ്
55. 'വനം' ഏത് മേഖലയിൽ ഉൾപ്പെടുന്നു ?
- A. പ്രാഥമികം  
B. ദ്വിതീയം  
C. ത്രിതീയം  
D. രാഷ്ട്രീയം

നിസാദ്സ് ടിം റിപ്പോർട്ട് ക്ലബ് കോലബറേരി